



九年级历史试卷

分值：100 分 时间：80 分钟 页数：8 页

一、单项选择题（本大题共 30 小题，每小题 2 分，共 60 分。在每小题列出的四个选项中，只有一项是正确的，请将答题卡上对应题目所选的选项涂黑。）

1. 下列图片和文字反映出古代亚非文明的共同点是（ ）

	金字塔铭文上刻着“为他（法老）建造起上天的天梯以便他可由此上到天上”的铭文		《汉谟拉比法典》石柱上镌刻着太阳神向汉谟拉比授予权杖的浮雕
---	---------------------------------------	---	-------------------------------

A. 发源于大河流域 B. 建立严格等级制度 C. 利用宗教神化王权 D. 高超的建筑技艺

2. 古印度《摩奴法典》规定：“婆罗门穷困时，可完全问心无愧地将其奴隶首陀罗的财产据为己有，而国王不应加以处罚，因为奴隶没有任何属于自己所有的东西，他不占有主人不能夺取的任何所有物。”这表明（ ）

- A. 印度完全听命于婆罗门 B. 婆罗门掌管国家大权
C. 婆罗门是特权阶级 D. 奴隶顺从婆罗门

3. 古希腊人认为神和人没有不可逾越的界限，他们在信神的同时，更相信人的自身智慧和力量，重视现实世界，神话不过是现实社会的反映。这种对神的看法，随着民主政治的发展而日益加强。对此理解正确的是（ ）

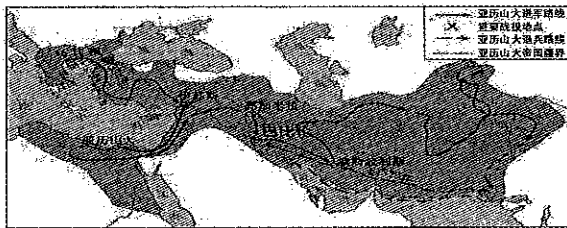
- A. 人文精神成为当时主流思想 B. 思想受到政治体制的影响
C. 资本主义发展推动文化繁荣 D. 自然环境决定希腊的文化

4. 每四年一届的奥运会是世界上最盛大的体育活动，各国运动员的入场顺序通常按主办国的文化习俗安排。但是无论怎样安排，希腊代表队都是第一位入场的次序。这种现象背后的历史因素是（ ）


- A. 希腊体育文化发达 B. 希腊是全人类文明的起源
C. 希腊文明影响了全世界 D. 致敬古希腊奥林匹克运动会

5. 海伦·琼斯在《建筑与民主》中写道：“雅典公民大会……每九天举行一次，要求至少有 6000 位公民参加。在此期间，雅典警卫在街道上巡逻，并用沾了红色粉末的绳子将公民们从市镇广场的最北端护送到集会场所，一旦在集会场所外发现某个公民沾有红色印记，该公民就会受到惩罚。”上述现象从侧面反映了（ ）

- A. 高频政治活动导致公民逃离 B. 雅典民主法治的公正与客观
C. 雅典公民必须履行参政义务 D. 雅典民主政治衰落的必然性
6. “当民众在公民大会上投票赞成与斯巴达的战争时，公民大会就宣布处于战争状态；当陪审员投票赞成苏格拉底有罪时，他就是个罪人。”材料旨在说明雅典（ ）
- A. 民众是拥有决策权的公民集体 B. 公民大会是城邦最高权力机构
C. 直接民主容易导致权力滥用 D. 陪审法庭难以做到公正判决
7. 历史地图往往包含许多历史信息，又能直观清晰的再现当时的实景概况，对下列两幅图片解读正确的是（ ）



图一亚历山大大帝东征




图二罗马的扩张

- A. 图一仅实现了东方文明的交融
B. 图二没有将地中海作为它的内湖
C. 两幅图片都是以暴力冲突的形式实现了东西方文明的交流
D. 两幅图片都是亚历山大东征，都给人民带来灾难
8. 古罗马法学家盖尤斯记述过一个案例：有人砍伐了邻居家的葡萄树，被告上法庭，原告虽提供了确凿证据，却输掉了官司。原因是原告在法庭辩论中把“葡萄树”说成了“葡萄”，而《十二铜表法》只规定了非法砍伐他人“树木”应处以罚金。该案例说明当时在罗马（ ）
- A. 法官严格遵循法典进行审判 B. 不重视私有财产的保护
C. 审判结果取决于原告的论述 D. 法律具有形式主义特征
9. 《罗马民法大全》中规定“释放奴隶也列入列国通法”“被释放，便是从管辖下得到释放”。说明拜占庭帝国（ ）

- A. 专制统治日益巩固 B. 奴隶处境有所改善 C. 法制时代全面开启 D. 废除封建领主特权
10. 在封君封臣的梯级关系中，一般只承认直接的主从关系。下列表述与材料意思一致的是（ ）

- A. 封臣对封君要忠诚，封君对封臣也有保护义务
B. 封君与封臣关系的形成有明确和规范的仪式
C. 封君封臣制度以土地的封赐为纽带
D. 我的附庸的附庸，不是我的附庸



11. 中世纪庄园法庭的审判权不仅依封建主对国家权力的侵蚀程度而定,而且审判的惯例是由领主同意并在判例中规定下来的那些为居民所长期沿用的习俗进行裁决。这表明庄园法庭()

- A. 维护公共秩序 B. 惩罚方式多样 C. 保护领主利益 D. 裁决依据单一

12. 大化改新时规定:凡六岁以上公民,由政府班给口分田,男子二段,女子为男子的三分之二。官户奴婢与公民相同,家人、私奴婢则给公民的三分之一。这一规定()

- A. 推动大和政权基本实现了统一 B. 动摇了中央对地方的控制能力
C. 导致土地私有与土地兼并盛行 D. 抑制了贵族地主对土地的兼并

13. 阿拉伯帝国时期出现了“百年翻译运动”,学者翻译了大量的古印度、波斯和古希腊的医学、天文学、数学典籍。这有助于阿拉伯帝国()

- A. 科技的发展 B. 文学的兴盛 C. 社会的转型 D. 制度的革新

14. 右图是欧洲帆船发展概况图。据此可知()

- A. 欧洲造船技术领先于世界
B. 阿拉伯帝国垄断东西贸易
C. 新航路开辟推动技术进步
D. 文化交流有利于技术发展



15. 在历史学习中,示意图是一种非常有用的工具,能够帮助我们更好地理解记忆复杂的历史事件、概念和关系。下列示意图中“?”处可以填入的史实是()



- A. 手工工场的出现 B. 早期殖民掠夺 C. 庄园经济的发展 D. 工业革命开展

16. 有人认为中世纪曾是“黑暗时代”,但在15世纪的某一时期,黑暗终于消失了,欧洲苏醒了,涤除了污垢,又开始了思考和创造,……欧洲的文化、政治和经济的结构,已在世界上所有其他文明当中占有决定性的优势。其中,经济结构占有决定性优势指的是()

- A. 封建经济开始衰落 B. 资本主义萌芽的出现 C. 大机器生产的推广 D. 蒸汽时代的到来

17. 英国是最“成功”的奴隶贸易国家之一。1750—1780年间,英国政府总收入的大约70%来自对其殖民地的商品征税,其中包括奴隶贸易。这可用于说明()


- A. 资本原始积累的残酷性 B. 殖民争霸的野蛮性
C. “三角贸易”的非法性 D. 欧洲文化传播到殖民地

18. 在近代欧洲的市场上,出现了来自全世界各个国家的商品。同时老牌的商业城市逐渐走向没落,如意大利的威尼斯和热那亚等城市,它们被葡萄牙的里斯本以及英国的伦敦等新兴

城市所取代。材料中的现象源于()

- A. 欧洲政府的倡导 B. 新航路开辟的影响 C. 工业革命的扩展 D. 新式交通工具发明

19. 某公众号发布的文章选用了如下配图。该篇文章的标题可能是()



中世纪印刷工厂



《蒙娜丽莎》



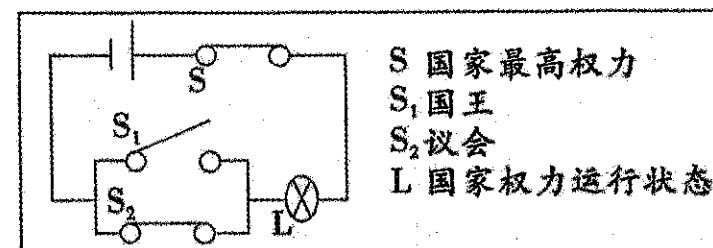
哥伦布登上美洲大陆

- A. 大航海的时代 B. 人文主义理性之光 C. 文艺复兴之花 D. 资本主义时代曙光

20. 有学者认为:“在英国人到达之前,北美尚处于较原始的部落和部落联盟时代,在这片土地上不存在国家的概念,大部分印第安人的生存方式是半农耕半渔猎式的,排除双方文化上的差别,印第安人要落后很多。因此,英国对印第安人的征服是必然的,且是进步的。”这一观点体现了()

- A. 殖民扩张成为共识 B. 辩证看待殖民扩张 C. 历史评价的主观性 D. 历史发展的客观性

21. 历史课上,某位同学巧用下图表示17世纪后期某国的政治情况(断开S₁,闭合S、S₂,L灯亮起)。S₁断开的依据是()



- A. 《人权宣言》
B. 《独立宣言》
C. 《权利法案》
D. 《大宪章》

22. 下列两幅图片反映出英国政治转型的特点是()



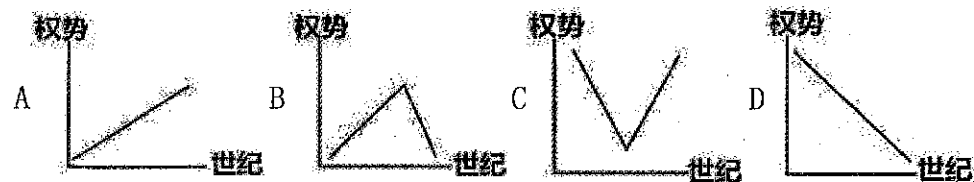
16世纪伊丽莎白一世主持议会



威廉和玛丽加冕

- A. 彻底与激进 B. 保守与落后 C. 妥协与倒退 D. 传承与创新

23. 17世纪到19世纪期间,教会、国王、贵族和新兴资产阶级之间的斗争和妥协深刻地影响了欧洲民族国家的形成和政治制度的变革,下列能典型地反映这一时期王权权势变化趋势的是()



24. 历史事实是指曾经“真实”发生过的事情，历史观点是观察历史所持有的“看法”。下列叙述中属于历史事实的是（ ）

- A. 1787 年宪法由制宪会议制定 B. 1787 年宪法促进资本主义发展
C. 1787 年宪法具有阶级局限性 D. 1787 年宪法巩固独立战争成果

25. 下图为 1803 年刊行的题为《企图吞下世界》的漫画：拿破仑张开的嘴里塞进了整个地球。该漫画作为史料，可用于研究（ ）

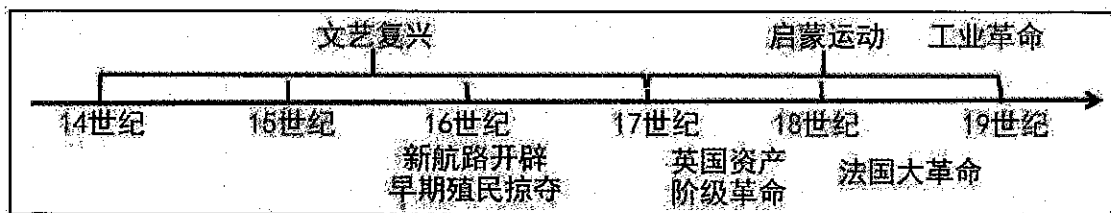
- A. 早期殖民掠夺和扩张
B. 拿破仑对外战争
C. 法兰西第一帝国建立
D. 法国大革命高潮



26. 有学者指出，如果根据君主主权乃至“朕即国家”的理论，法国大革命的起义者无疑都是叛国者，但最终被以“叛国罪”处决的，恰是试图勾结外国君主共同镇压革命的路易十六及其王后。这国（ ）

- A. 大革命的进程具有激进性 B. 人民的人权意识较薄弱
C. 建立军事独裁具有必然性 D. 民族国家观念内涵变化

27. 西方的近代化是在一定的历史发展时期，一定的技术、经济、环境条件和思想力量下促成的社会发展进程。下列选项对时间轴中的历史信息表述正确的是（ ）



- A. 西方的近代化历程：思想文化→制度→器物
B. 文艺复兴受启蒙运动的影响
C. 新航路开辟和早期殖民掠夺为资产阶级的萌芽奠定了经济基础
D. 没有英国的资产阶级革命法国大革命就不会发生

28. 俞金尧在《资本扩张与近代欧洲的黑夜史》中指出：在生产方面，从 18 世纪中后期到 19 世纪上半期，人们的劳动时间向夜晚不断延伸，原本以自然经济为基础的社会所普遍推

行的日出而作，日落而息的作息时，被不断地突破。造成这一现象的主要原因是（ ）

- A. 享受生活观念的流行 B. 工业革命的开展 C. 工人秘密斗争的需要 D. 电力的广泛应用

29. 第一国际时期，只有一个社会主义政党，有党员 1 万多名。从第二国际建立到一战爆发前，参加第二国际的社会主义政党有 30 多个，党员 356 万余名，遍布欧洲、美洲、亚洲和大洋洲。上述变化表明（ ）

- A. 国际工人运动范围与规模扩大 B. 马克思主义指导地位完全确立
C. 一战推动了工人运动快速发展 D. 社会主义从理想到现实的飞跃

30. 1844 年诗人海涅写下了：“忧郁的眼里没有眼泪，他们坐在织机旁，咬牙切齿”。这首诗（ ）


- A. 宣传了《共产党宣言》 B. 揭露了尖锐的阶级矛盾
C. 赞扬了巴黎公社运动 D. 推动了国际工人的联合

二、综合题（共 40 分，31 题 10 分，32 题 16 分，33 题 14 分）

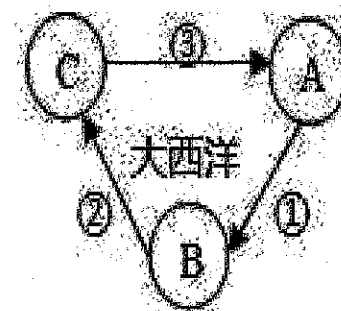
31. 阅读材料，完成下列要求。（10 分）

材料一：但丁：“人不能像走兽那样生活，应该追求知识和美德。”薄伽丘：“只有品德才是区分人类的标准。”莎士比亚：“人类是一件多么了不起的杰作！多么伟大的力量！”达·芬奇：“你不能爱或恨一件事物，除非你事先认识了它。”

材料二：新航路开辟示意图



三角贸易示意图



材料三：1992 年，欧洲许多国家纷纷为哥伦布举行纪念活动，为其立碑歌颂他。但此举也引起了美洲印第安人后裔的强烈不满，他们打出的一条标语上写着：“你们庆祝的是我们的苦难。”

（1）材料一所示内容反映的是什么运动？（2 分）结合所学知识，说明该运动兴起的根本原因是什么？（2 分）

（2）根据材料二及所学知识，说出图中①②③④航线中其中一条航线的航海家及成就，（2 分）分析两幅图之间的联系。（2 分）

(3) 根据材料三及所学知识，如何理解美洲印第安人后裔的标语“你们庆祝的是我们的苦难”？(2分)

32. 阅读材料，回答问题。(16分)

材料一：《旧制度与大革命(序言)》英国用“光荣革命”的非暴力手段，建立了一种新的政治制度……新制度营造出一种宽松、自由和开放的环境。否则，就难以想象，英国社会如何能在18、19世纪和平地实现现代化。——钱乘旦《世界现代化历程》


材料二：行政权力赋予美利坚合众国总统。总统任期四年，通过选举产生，他应宣誓保护和捍卫合众国宪法。总统有权缔订条约，但须争取国会的意见和同意。总统应经常向国会报告联邦的情况。合众国总统被弹劾而判罪者，均应免职。——1787年美国宪法

材料三：法国史学家托克维尔经常把法国与美国、英国的历史进行对比，特别指出它们之间的区别：美国没有封建制度这个强大的敌人，贵族并未因革命丧失权力，他们与资产阶级实行联合统治。


材料四：尽管大西洋把英、法、美三国永远地分隔开来，但三国的革命作为资产阶级革命不仅有一定联系，而且也是相互影响、互相促进的。17世纪和18世纪发生于大西洋两岸的这三个伟大历史事件，最大的公约数是关于“权利”的诉求或“人权”的伸张。

——《世界史：以文明演进为线索》

材料五：



克伦威尔



华盛顿



拿破仑

(1) 根据材料一，指出英国建立的“新的政治制度”的名称，(2分)概括这种“新制度”对英国崛起产生的积极影响。(2分)

(2) 根据材料二概括这种国家权力构成的特点。(2分)结合所学知识，说出1787年美国宪法的地位。(2分)

(3) 根据材料三并结合所学知识，说明法国革命、美国革命面对的“强大敌人”有何区别？(2分)材料四中“三国的革命”体现了人类社会怎样的政治发展趋势？(2分)

(4) 材料五展示的是资产阶级革命时代的杰出人物，仿照示例，任选一个人物，撰写一段人物介绍词。(4分)


【示例】：孙中山是中国近代伟大的资产阶级民主革命家，是近代民主革命的伟大先行者。

他领导了辛亥革命，推翻了清朝的君主专制制度，创立了资产阶级共和国，颁布了资产阶级性质的宪法，促进了民族觉醒，使民主共和观念深入人心。

33. 第一次工业革命深刻影响了英国民众的生活，也引发了人们对资本主义制度的批判和反思。阅读材料，回答问题。(14分)

材料一：18世纪中期到19世纪中期……引起了欧洲生产的革命……英国引领了这一历史发展的潮流，成为世界上工业最发达的国家，号称“世界工厂”，其生铁产量1848年为200万吨，1870年时已增长到600万吨，占世界总产量的一半。

材料二：



该作品描绘工业革命带来的交通工具——火车。作者并没有表现工业进步的兴奋，而是着重描写人在车厢中的分类等级。母亲抱着婴儿，老妇人提着大篮子，疲倦的儿童靠在一边睡着了。

《三等车厢》(作者：杜米埃)

材料三：18世纪下半叶到19世纪初期英国工人生活费和工资指数(1850年=100)

	1759—1768年	1779—1788年	1789—1798年	1799—1808年	1809—1818年
名义工资	81	86	94	114	114
生活费	72	85	97	137	159
实际工资	112	101	98	83	72

——【苏】门德尔逊《经济危机和周期的理论与历史》

材料四：工人阶级第一次反抗资产阶级是在工业运动初期，即工人用暴力来反对使用机器的时候。但是这种反抗形式也只是零散的，它局限于一定的地区，并且仅仅针对现存关系的一个方面。只要工人达到了眼前的目的，社会权力就以全部力量袭击这些再度变得手无寸铁的犯罪者，随心所欲地惩罚他们，而机器还是被采用了。工人必须找到一种新的反抗形式。

——【英】弗·恩格斯《英国工人阶级状况》(1845年)

(1) 材料一中提到的“英国成为世界上工业最发达的国家”的主要原因是什么？(2分)

“生产的革命”最先开始于哪个生产部门？(1分)

(2) 根据材料二并结合所学知识，请你为火车上的乘客配以旁白。(4分)

(3) 根据材料三，指出18世纪下半叶到19世纪初期英国工人工资的总体趋势，(2分)这些趋势说明了什么？(2分)

(4) 根据材料四，概括工人反抗资产阶级的方式是什么？(2分)结合所学知识，指出马克思和恩格斯帮助工人找到了什么“新的反抗形式”？(1分)