

2024-2025 学年度第一学期期末教学质量抽测

八年级历史试卷

分值：100 分 时间：80 分钟 页数：8 页

一、单项选择题（每小题 2 分，30 小题，共 60 分）

1. 近代史上有首《卖布谣》这样写道：“土布粗，洋布细，洋布便宜，财主欢喜。土布没人要，饿倒哥哥嫂嫂。”这首歌谱反映了（ ）

- A. 自然经济逐渐解体
- B. 外商企业发展艰难
- C. 民族工业陷入绝境
- D. 官僚资本极度膨胀

2. 清末发行的《爱国三字书》里写到：“到咸丰，第六年，打广东，第十年，英法国，打京城，圆明园，放火烧。”这描述的是（ ）

- A. 鸦片战争
- B. 第二次鸦片战争
- C. 甲午中日战争
- D. 八国联军侵华战争

3. 下边为近代中国某历史事件的一些信息，由此推断该事件是（ ）

- 一、工业文明外力冲击下社会矛盾的产物
- 二、基督教文明与中华本土文明相融合为特点
- 三、以反清革命作为斗争目标
- ……

- A. 太平天国运动
- B. 义和团运动
- C. 戊戌变法
- D. 辛亥革命

4. “‘求富’则是因为在‘自强’的旗帜下，洋务派在展开军工创建活动中缺乏资金、原料等，所以为了能够获得这些所需，他们进一步提出了‘求富’以解决自身需求。”上述内容主要阐述了（ ）

- A. 洋务运动是在什么背景下开始
- B. 洋务派发展民用工业的主要原因
- C. 洋务运动的口号、特点和影响
- D. 洋务运动的主要经过和基本特点

5. 黄海海战结束后，光绪帝为海战中壮烈牺牲的爱国将领垂泪撰写挽联“此日漫挥天下泪，有公足壮海军威”。光绪帝评价的将领是（ ）

- A. 左宝贵
- B. 徐邦道
- C. 丁汝昌
- D. 邓世昌

6. 唐德刚在《从晚清到民国》中指出，康有为是近代中国“现代化运动”的“短跑健将”。其短跑的鲜明特点是（ ）

- A. 谋求技术创新
- B. 谋求教育创新
- C. 谋求制度创新
- D. 谋求思想创新

7. 区分史实与史论是学习历史的必备能力之一。史实指历史事实，史论是对历史事件或历

史人物的评论。下列选项中，属于史论的是（ ）

- A. 八国联军占领北京后，采取了报复性的屠杀、劫掠，充分暴露了侵略者的凶恶本质
- B. 日军占领旅顺后，连续进行了四天大屠杀，杀害了两万多中国人
- C. 进驻东交民巷的外国军队不断四处寻衅，射杀团民、清军
- D. 英法联军北上，攻陷大沽炮台，逼近天津

8. 1905 年 8 月，为了集中革命力量，建立统一的革命组织，孙中山成立了我国第一个全国规模的、统一的资产阶级革命政党。这个政党是（ ）

- A. 兴中会
- B. 华兴会
- C. 光复会
- D. 同盟会


9. 林伯渠说：“对许多未经过帝王之治的青年，辛亥革命的政治意义是常被低估的……因为他们没有看到推翻几千年因袭下来的专制政体是多么不容易的一件事”。这段话旨在强调（ ）

- A. 辛亥革命不彻底
- B. 广大民众尚未觉悟
- C. 革命缺乏社会基础
- D. 辛亥革命意义重大

10. “它是中国历史上第一部具有资产阶级共和国宪法性质的重要文件，它肯定了资产阶级民主共和制度和民主自由原则”。“它”指的是（ ）

- A. 《清帝退位诏书》
- B. 《中华民国临时约法》
- C. 《中华民国约法》
- D. 《共同纲领》

11. 下图所示为世界书局发行的股票招股书，这一股票发行（ ）



- A. 1925 年
- B. 1935 年
- C. 1936 年
- D. 1937 年


12. 据统计，在民国初年，光是四川内部各派军阀之间的战乱，即达 400 余次之多，湖南宝庆城内外，凡兵队经过驻扎之处，户少炊烟，路无行人，伤人惨目，天日为暗。上述材料反映出当时（ ）

- A. 直系军阀控制中央政府
- B. 战乱频繁导致民不聊生
- C. 北洋政府依附帝国主义
- D. 生态环境遭受严重破坏

13. “白话通神，红楼梦、水浒，真不可思议。古文讨厌，欧阳修、韩愈，是什么东西。”这副对联可能出自（ ）

- A. 抗日战争时期的西南联大
- B. 戊戌变法时期的京师大学堂

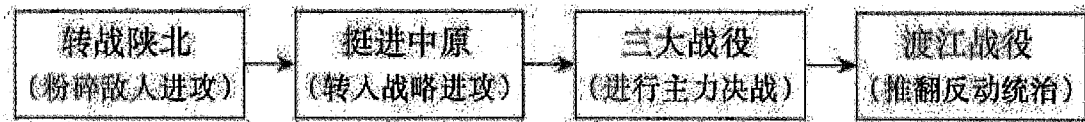
- C. 新文化运动时期的北京大学 D. 洋务运动时期的同文馆
14. 国家主席习近平在瞻仰南湖革命纪念馆时说：“上海党的一大会址、嘉兴南湖红船是我们党梦想起航的地方。我们党从这里诞生，从这里出征……这里是我们党的根脉。”下列能印证这一观点的是（ ）
- A. 武装起义，八一建军 B. 国民革命，北伐战争
- C. 开天辟地，焕然一新 D. 战略转移，万里长征
15. “中国历史选择了这个特别的日子，放射出中国革命最初的曙光。鲜红的党旗自从在十三个人身后飘起时，中国命运的希望一日比一日红火。”下列史实与“这个特别的日子”相关的是（ ）
- A. 制定了中国共产党的最低纲领 B. 毛泽东当选为中央局书记
- C. 党的中心工作是领导和组织工人运动 D. 会议在汉口召开
16. 右图为某时期的漫画，在一张“国民政府”的餐桌上，摆放着几个佐料瓶，瓶上分别贴有“工人”“苏俄”“学生”“军人”和“妇女”等标签。从中可知（ ）
- A. 五四运动取得初步的胜利
- B. 国民革命具有广泛的基础
- C. 工农武装割据道路的开辟
- D. 国民经济建设运动的开展
17. 这一战略转移把革命的力量从城市的必要退却（这种退却又酝酿着新的进攻）和向农村的积极进攻紧密结合起来，是具有伟大的战略眼光的。这一伟大的战略转移是（ ）
- A. 进军北伐 B. 定都瑞金 C. 引兵井冈 D. 抗击日军
18. “雪山低头迎远客，草毯泥毡扎营盘……官兵一致同甘苦，革命理想高于天。”材料体现了红军的（ ）
- A. 红船精神 B. 长征精神 C. 抗战精神 D. 延安精神
19. “挽救了党，挽救了红军，挽救了革命，成为中国共产党历史上生死攸关的转折点”，这次会议是（ ）
- A. 遵义会议 B. 中共一大 C. 古田会议 D. 中共七大
20. 日军认为，“皇军在外国首都入城乃有史以来盛事”。为“使中国军民敬仰皇军之威武而归服之”，日军一方面组织盛大的入城仪式，另一方面以“屠城”的方式震慑中国军民。这期间，日军抢掠公私财产、纵火焚城、屠杀普通市民和俘虏、强奸和蹂躏中国妇女，暴行持续时间长达 40 多天……材料中“屠城”指的是（ ）



- A. 火烧圆明园 B. 八国联军占领北京
- C. 旅顺大屠杀 D. 南京大屠杀
21. “据统计，国民政府在 1938—1940 年先后组织了多次大的战役，如武汉会战、长沙会战等。这些战役规模大，地域覆盖广，每次日军投入的兵力均在 8—10 万……两年间，国民党军队共毙俘日军 263251 人，同时也付出了 1019911 人的重大伤亡。”材料主要说明 1938—1940 年间（ ）
- A. 国民党和共产党都是抗日中流砥柱 B. 国民党积极抗战，给日军沉重的打击
- C. 国共合作抗战，取得了抗战的胜利 D. 人民群众积极抗战，给日寇沉重的打击
22. “日本鬼子野心狼，侵略中国逞凶狂。全国军民齐奋起，打得日寇投了降。”这首童谣反映了中国抗日战争胜利的主要原因是（ ）
- A. 实行全民族的抗战 B. 建立了敌后抗日根据地
- C. 进行正面战场抵抗 D. 加入世界反法西斯同盟
23. 《新华日报》华北版头条刊载了蒋介石的嘉奖电：“朱（德）副长官、彭（德怀）副总司令：迭电均悉，贵部窥破好机，断然出击，予敌甚大打击，特电嘉勉。仍希……勿予敌喘息机会，彻底断绝其交通为要！”这份嘉奖电的背景是（ ）
- A. 百团大战战果辉煌 B. 粉碎日军不可战胜的神话
- C. 正面战场取得胜利 D. 日本被迫宣布无条件投降
24. 下表是世界主要反法西斯国家战争贡献简表，据此可知中国人民的抗日战争（ ）
- | 项目 | 总数 | 中国 | 苏联 | 美国 | 英国 |
|------------|--------|--------|--------|-------|-------|
| 军民伤亡总数（万人） | 约 9000 | 约 3500 | 约 2700 | 约 100 | 约 120 |
| 持续作战时间（年） | 14 | 14 | 4 | 3 | 6 |
- A. 促进了中国人民的民族觉醒和空前民族团结
- B. 中国共产党在团结抗战中发挥中流砥柱作用
- C. 近代中国反抗外敌入侵取得第一次完全胜利
- D. 为世界反法西斯战争的胜利作出了巨大贡献
25. 下列人物既参加了西安事变和平解决又参加了重庆谈判的是（ ）
- A. 周恩来 B. 毛泽东 C. 邓小平 D. 刘伯承
26. 1946—1948 年，华北和东北解放区有 200 多万人参军，山东约有 580 多万人，冀中有 480 多万人随解放军出征，抬担架、送粮草、运弹药、救伤员。以上材料可用来研究人民解

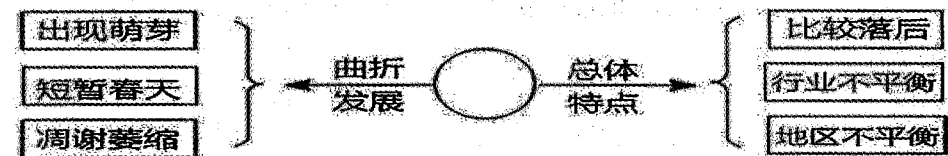
- 放战争（ ）
- A. 发动的背景 B. 发展的过程 C. 胜利的原因 D. 胜利的影响

27. 整理历史知识结构图是一种高效的学习方法。以下示意图有助于我们了解（ ）



- A. 国民大革命主要进程 B. 人民解放战争的主要进程
- C. 抗日战争的发展历程 D. 中国新民主主义革命发展历程

28. 如图思维导图中空白处应填入的主题是（ ）



- A. 中国近代军事发展 B. 中国近代社会生活的变迁
- C. 中国近代民族工业 D. 中国近代科技发展

29. 1905年后，唱歌活动在近代我国学校普及开来，当时传播的歌曲，歌词内容以追求“文明新风”。要求“富国强兵”“抵御外辱”者为多。对此认识最恰当的是（ ）

- A. 艺术作品蕴含时代烙印 B. 文学创作抨击社会现实
- C. 思想解放促进经济变革 D. 新式教育主张全面发展

30. 下面是19世纪70年代的一份铁路时刻表(部分内容)，可用于研究（ ）


本线自1876年7月3日星期一开始， 在上海与江湾间准时行驶火车 开车时刻如下	
上海开:	7:00 9:00 *11:00 *13:00 15:00 17:00
江湾开:	7:30 9:30 *11:30 *13:30 15:30 17:00
每逢星期日，凡带*记号的车次均停开	

- A. 通讯事业的发展 B. 出行方式的变化
- C. 新式教育的普及 D. 政治制度的变革

二、综合题（31题14分，32题14分，33题12分，共40分）

31. “半部中国近代史，就是半部广东人的历史。”近代以来，许多重要历史事件、人物，都与“广东”紧密联系在一起。阅读材料，回答问题。（14分）

材料一：



材料二：

名人故居	洪秀全故居	邓世昌故居	康有为故居	梁启超故居	孙中山故居
地点	广州花都	广州番禺	广东佛山	广东新会	广东中山

材料三：广东为泰西入中国之道，濠镜（澳门）一区，自明代已为互市之地。自香港隶属于英，白人之足迹益繁，故广东言西学最早，齐民习与西人游，故不恶之，亦不畏之，故其国民之性质，有独立不羁气象者。惟广东人之最。

——梁启超《饮冰室文集》

（1）根据材料一任选一处历史遗迹，说明与之相关的历史事件及其历史意义。（4分）

（2）根据材料二选择一位历史名人，并为其撰写简介。（要求：示例，80字左右）（4分）

示例：林则徐：福建省侯官人，是清朝时期的政治家、思想家和诗人；因其主张严禁鸦片，在中国有民族英雄之誉。林则徐虎门销烟是中国人民禁烟斗争的伟大胜利，显示中华民族反抗外来侵略的坚强意志。

（3）根据材料三并结合所学知识，说明人们得出“半部中国近代史，就是半部广东人的历史”这一结论的原因？（4分）

（4）请列举两种了解广东史的途径？（2分）

32. 中国革命分为旧民主主义革命和新民主主义革命两个阶段，百年风雨路，中国人民最终站起来了（14分）

材料一：甲午之败、马关之辱以及接踵而来的瓜分狂潮，使中华民族的各阶级、各阶层、各

民族普遍产生了亡国灭种的危机感、大祸临头的紧迫感和难以立足于世界民族之林的耻辱感……1898 年，维新思想家严复翻译的《天演论》出版，用“物竞天择”、“适者生存”的进化论思想，为这种危机意识提供了理论依据。

——摘编自王晓秋《甲午中日战争与中华民族的觉醒》

材料二：新文化运动是中国历史上一场很有影响的思想解放运动。运动中民主与科学旗帜的树立，使中国社会许多方面发生了巨大的变化，还造成了新思想、新理论广泛传播的大好机遇。马克思主义正是在这种情况下，乘着俄国革命胜利之风，在中国广泛传播，中国无产阶级登上历史舞台，由此开始了中国共产党领导新民主主义革命。

——摘自《论新文化运动与马克思主义传播之间的关系》

材料三：2019 年是五四运动 100 周年，中华人民共和国成立 70 周年。某班同学进行相关研究，在图书馆检索到以下信息：

①照片
1919年5月4日学生游行照片：美国人拍摄，照片中
学生手持标语“青岛是我们的”。

②报刊
《每周评论》：五四运动
期间重要刊物，对五四学
生游行、上海工人罢工等
均有详细。

③档案
《共和国脚步——1949年档
案》第三十八集：收录了第
一届政协会议宣言、会议的
决议草案及决议案等。

④口述
《百年名人自述》第十四
辑：围绕开国大典编选了
领导者、亲历者亲口述说
的原始材料。

⑤电影
《开国大典》：故事片，展
现了从三大战役胜利至举行
开国大典的历程。


⑥专著
《五四与中国现代化》：研
究了五四运动前后中国社
会的变化，包括“从欧化到
‘以俄为师’”“从放足到
服饰革命”等章节。

- (1) 根据材料一，指出严复翻译《天演论》的历史背景。（2 分）
- (2) 根据材料二，简述新文化运动中宣传的思想。结合所学，概述新文化运动在中国历史上的影响。（6 分）
- (3) 综合材料一、材料二相关信息，然后提炼一个主题。（2 分）
- (4) 根据材料三，选择一个研究主题和相应的一则材料，并说明选择材料的理由。（仿照示例完成，不得选用示例中的研究主题和材料）（4 分）

研究主题 1	研究主题 2	研究主题 3
五四运动在全国的扩展	五四运动的影响	开国大典的真实场景

示例：
研究主题：开国大典的真实场景
选择材料：④
理由：开国大典亲历者的口述是了解开国大典真实场景的重要证据


33. 阅读材料，完成下列要求。（12 分）




西安事变谈判旧址 图一

取消一切推翻国民党政权的暴动政策及赤化运动，停止以暴力没收地主土地的政策。
取消现在的苏维埃政府，实行民权政治，以期全国政权之统一。
取消红军名义及番号，改编为国民革命军，受国民政府军事委员会之统辖，并待命出动，担任抗日前线之职责。
——《中共中央为公布国共合作宣言》（1937 年 7 月 15 日）

图二



中国共产党第七次全国代表大会会场 图三



毛泽东和蒋介石在重庆谈判期间的合影 图四

- (1) 按照史料价值划分，史料可分为第一手史料和第二手史料，简述材料中四则史料同属的史料价值（2 分）；按照史料类型划分，史料主要有实物史料和文献史料，简述图一和图二分别所属的史料类型（2 分）
- (2) 阅读以上材料，围绕其主题提炼一个观点，并结合材料和所学知识加以论述。（8 分。要求：观点明确，史论结合，条理清楚）