

2024-2025 学年度第一学期期末教学质量抽测

七年级历史试卷





分值：100 分 时间：80 分钟 页数：8 页

一、单项选择题（本大题共 30 小题，每小题 2 分，共 60 分。在每小题列出的四个选项中，只有一项是正确的，请将答题卡上对应题目所选的选项涂黑。）

1. 我国拥有百万年的人类史、一万年的文化史、五千多年的文明史。入选“2022 年度全国十大考古新发现”的湖北十堰学堂梁子（郧县人）遗址，是旧石器时代遗址，填补了元谋人与北京人之间的空隙。该遗址属于我国（ ）

- A. 百万年人类史范畴 B. 一万年文化史范畴
- C. 五千多年文明史范畴 D. 原始农耕时代范畴

2. 生产、生活工具是人类改造自然、适应生活的重要表现。对下图所反映的史实表述正确的是（ ）

			
图 1 北京人使用的石器	图 2 山顶洞人使用的骨针	图 3 河姆渡遗址出土的骨耜	图 4 半坡遗址出土的人面鱼纹彩陶盆

- A. 图 1 反映了北京人生活在新石器时代
 - B. 图 2 反映山顶洞人已掌握磨光和钻孔技术
 - C. 图 3 反映河姆渡居民利用骨耜种植粟
 - D. 图 4 反映了半坡居民已有较高的制瓷技术
3. 考古发现是了解史前社会历史的重要依据。下面的出土文物从器物造型和图案设计上共同印证了我国原始居民（ ）



仰韶遗址出土的鱼鸟纹彩陶壶



马家窑遗址出土的舞蹈纹彩陶盆

- A. 会农业种植 B. 具有朴素的审美观 C. 会制作瓷器 D. 开始饲养家禽家畜

4. 考古学家在红山文化牛河梁遗址发现了女神庙、祭坛和埋葬着贵族的积石冢。其中，积石冢被称为“中国金字塔”，大小高低不等，反映了红山文化晚期的社会分化。此外，牛河梁遗址还出土了祭祀礼器玉猪龙。这实质上反映了当时（ ）

- A. 社会出现不平等现象 B. 处于旧石器时代
- C. 出现早期文明的曙光 D. 原始农业的发展

5. 传说黄帝之妻嫫祖是西陵部落里有智慧的姑娘。一天在桑树下烧水，蚕茧落锅里，嫫祖用树枝去捞，没想到却捞起一根洁白透明的长丝线，她尝试用这种丝线代替植物编织，就此发明了缫丝织绸。2019 年考古学者在山西发现了 6 枚新石器时代的蚕蛹。据此可知（ ）

- A. 传说蕴含一定的历史价值 B. 考古发掘是了解历史的唯一途径
- C. 传说能真实反映历史原貌 D. 考古发掘也需要依赖于传说印证

6. 据《考工记·匠人》记载，西周的城邑规划有严格规定，如城墙高度，天子王城高“九雉”（一雉等于一丈），诸侯国都城高“七雉”，卿大夫都城高“五雉”。对道路的规定如下：天子王城路宽“九轨”（一轨等于八尺），诸侯国都城路宽“七轨”，卿大夫都城路宽“五轨”。这表明（ ）

- A. 分封制下等级森严 B. 统治者对城邑进行改建
- C. 分封制在逐步瓦解 D. 西周的城市规划很合理

7. 春秋时期的人常以“牛”“耕”作为名或字，例如，孔子弟子司马耕，字子牛；晋国一个大力士，姓牛，名子耕。这些现象说明了春秋时期（ ）

- A. 命名字追求吉利 B. 普通人也拥有了姓名权
- C. 人们开始饲养牛 D. 牛耕受到了人们的推崇

8. 公元前 720 年，周平王去世，即位的桓王遵从其遗愿，将大权交给西虢公，心怀不满的郑庄王既不为平王奔丧，也不朝贺新王登基，却命人侵入王室疆土，抢夺已成熟的庄稼，从此“周郑交恶”。该状况反映出（ ）

- A. 诸侯取代周天子 B. 诸侯的争霸 C. 分封制彻底瓦解 D. 周王室衰微

9. 魏国李悝变法根据功劳和能力选官；楚国吴起变法逐步废除旧贵族世官特权；秦国商鞅变法宗室贵族如果没有军功，不能享受公族特权。这些变法措施（ ）

- A. 维护了周朝分封制度 B. 代表了农民阶级利益
- C. 瓦解了封建社会秩序 D. 顺应了历史发展潮流

10. “战国李悝估计，（当时）一个农民可以耕田百亩（约相当于 20800 平方米），每亩产粟三斗，可供五口人食用。以上这些都为解放劳动力创造了条件，也使得有相当一些人成为有闲阶层，从而有时间去从事自己的学术活动，为‘百家争鸣’打下了良好的经济基础。”从

材料中可以得出的正确结论是（ ）

- A. 战国时旧制度瓦解
- B. 农业生产进步促进思想解放
- C. 农民都是有闲阶层
- D. 思想解放推动农业生产发展

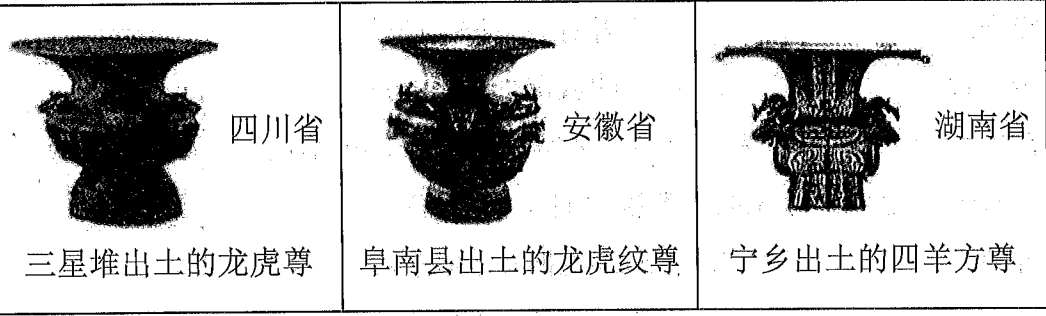
11. 习近平总书记在讲话中多次引用了《道德经》的一句名言：“图难于其易，为大于其细。天下难事，必作于易；天下大事，必作于细。”这句话体现的思想是（ ）

- A. 对立双方相互转化
- B. 以“德”治国
- C. 兼爱、非攻、尚贤
- D. 以“法”治国

12. 四川三星堆遗址出土的文物中，青铜尊、青铜鼎的造型，与中原青铜器的同类器型非常相似；作为祭祀仪仗的玉璋、玉璧、玉琮，与二里头、殷墟出土玉器几乎如出一辙。这说明（ ）

- A. 三星堆文明起源于中原文明
- B. 三星堆与中原王朝关系密切
- C. 夏商时期古蜀文明丰富多彩
- D. 早期国家十分注重祭祀典礼

13. 文物是人类历史活动的见证，下列出土于不同区域的青铜尊器均为商代文物。这主要能说明（ ）



- A. 中华文明多元一体
- B. 我国拥有世界上最古老的文明
- C. 中国文化开放包容
- D. 我国青铜器制造业领先于世界

14. 依赖武力实现的政治统一并不能长久，只有文化的统一才有可能实现并维护政治统一。秦始皇巩固统一的措施中与材料主张一致的是（ ）

- A. 北击匈奴
- B. 统一文字
- C. 南征越族
- D. 尊崇儒术

15. 历史学家钱穆认为：“秦汉以来的郡县制……中国之永为统一国，此项制度贡献过其甚大之绩效。”郡县制发挥这一作用，是因为（ ）

- A. 完全消除地方割据
- B. 提高了地方的行政效率
- C. 中央加强地方管理
- D. 保证了官僚队伍的廉洁

16. 历史解释是指以史料为依据，对历史事物或现象进行理性分析和客观评价。下列说法属于历史解释的是（ ）

- A. 公元前 209 年夏，陈胜吴广在大泽乡发动起义

- B. 公元前 356 年，秦孝公任用商鞅进行变法改革
- C. 秦末陈胜、吴广农民起义动摇了秦朝的统治
- D. 秦统一后，秦始皇派蒙恬北击匈奴，修筑长城

17. 诗曰：“汉朝初建忧患多，百姓疾苦谁人知。文景齐心来努力，百姓同声谢皇恩。”由此可见，文帝、景帝重视（ ）

- A. 以民为本
- B. 重商抑农
- C. 严刑峻法
- D. 对外交往

18. 汉武帝一方面加强对商业和商人的管理，实行彻底的币制改革，集中货币发行权，禁止地方铸钱，统一货币；另一方面将盐、铁经营权收归中央。这些措施起到的主要作用是（ ）

- A. 使汉初的经济逐渐得以恢复发展
- B. 使地方上的豪强地主发展起来
- C. 使整个社会的文化素养得以提高
- D. 使朝廷对社会的经济控制加强

19. 从汉武帝建元五年设置五经博士，儒家经学得到了突飞猛进的发展。专攻经学的博士弟子由武帝时的五十人，逐步递增，成帝时增加到三千人。出现这一现象的直接原因是（ ）

- A. “文景之治”政治清明
- B. 察举制度逐步确立
- C. “推恩”诸侯加强控制
- D. 儒家经学成为官学

20. 东汉时期的豪强大族，极力兼并土地，占有很大的田庄；他们还拥有私人武装，操控地方政权，为害一方。豪强大族势力的膨胀带来的影响（ ）

- A. 加速了王莽的夺权
- B. 促进东汉前期人口的快速增长
- C. 是宦官专权的恶果
- D. 成为东汉晚期地方割据的诱因

21. 张骞首次出使西域时，听说了安息（今伊朗高原和两河流域）的情况，再次出使西域时，他派副使访问了安息，随后，安息使节来到汉朝，并将鸵鸟蛋等礼物送给汉武帝。这说明张骞通西域（ ）

- A. 改善了国家的财政状况
- B. 促进了西汉与西域相互了解
- C. 加强中央对地方的控制
- D. 有利于“文景之治”的出现

22. 西汉时，中原地区出现了良种马、葡萄、苜蓿、胡桃、蚕豆、石榴等外来物产。这一时期，丝绸在西域各国受到广泛欢迎，西域人学会了打井和炼铁等技术。这些现象的出现主要得益于（ ）

- A. 汉朝科技的进步
- B. 西域人对丝织品的追捧
- C. 丝绸之路的开辟
- D. 中外农业生产水平提升

23. “自古书简，多编以竹简，其用缘帛缣贵而简重，并不便于人。伦乃造意用树肤，麻头及酸布、鱼网以为纸。元兴元年，奏上之。帝善其能”材料中的这项技术（ ）

- A. 促进了人类文化的传播
- B. 开启对海洋的征服

- C. 提供了烟花爆竹的材料 D. 为政府增加了赋税

24. 下表是曹操的形象演变，影响对曹操评价的因素是（ ）

观点	出处
“操最姿貌短小，而神明英姿。”“才武绝人，莫之能害”	(南朝)《世说新语》
“至今砚墨抱遗益，千古奸雄秽青史”	(宋)岑安卿《铜雀台》

- A. 时代背景 B. 身材外貌 C. 个人成就 D. 作者喜好

25. 《三国志》记载“庚子，王崩于洛阳，年六十六。……谥曰武王，二月丁卯，葬高陵”。

国家文物局在高陵出土了8块刻有“魏武王”字样的残片，最终认定高陵墓的墓主为曹操。

以上确认高陵墓主为曹操的依据是()

- A. 历史文献与考古成果 B. 家族族谱的记载
C. 历史学家的主观判断 D. 洛阳的悠久历史

26. 东晋政府建立了许多侨郡县，给予南迁人民免除徭役的权利：南朝时，江南许多地区已是“良畴美拓，吐吠相望，连宇高花，叶陌如绣”，一派田美土肥之象。在我国南方各省，分布着数以百万计的客家人。史学界普遍认为客家人是历史上渐次南迁的中原汉族人。有关中原人口南迁的说法正确的是（ ）

- A. 西汉末年开始出现大批中原人口南下现象
B. 自然灾害频繁是中原人口南迁的主要原因
C. 中原人口大量南迁引发南方社会动荡不安
D. 中原人口大量南迁推动了江南地区的开发

27. 华夏族是中华民族最早最受各界认同的民族称号。《左传》注疏有云：“中国有礼仪之大，谓之夏；有服章之美，谓之华。”华夏民族的称谓正是来源于服饰文明。以下历史事件反映古代少数民族“易服学礼，融入华夏”是（ ）

- A. 炎黄战蚩尤 B. 北魏孝文帝改革 C. 赤壁之战 D. 王莽改制

28. 某班开展历史研究性学习, 探寻“孝文帝迁都的缘由”。第2组同学按任务搜集了以下信息: 3世纪初中国又进入一个寒冷期, 《齐民要术》记载, 这一时期华北地区桃树开花较之前晚10-20天; 《晋书》记载的异常霜降的出现较以往更频繁, 平城地区也屡受灾荒。据此判断, 这一小组研究任务应是侧重追寻迁都的()

- A. 政治因素 B. 文化因素 C. 军事因素 D. 环境因素

29. 三国时期，魏、蜀、吴三国均将实现统一大业作为立国目标。南北朝时期，北朝认为它就是中国，南朝是从自己分裂出去的一部分。南朝也认为自己是中国的，北朝应属它所有。这

反映出魏晋南北朝时期 ()

- A. 政权更迭日益频繁
B. 儒佛道之间交汇融通
C. 经济重心逐渐南移
D. 大一统观念深入人心

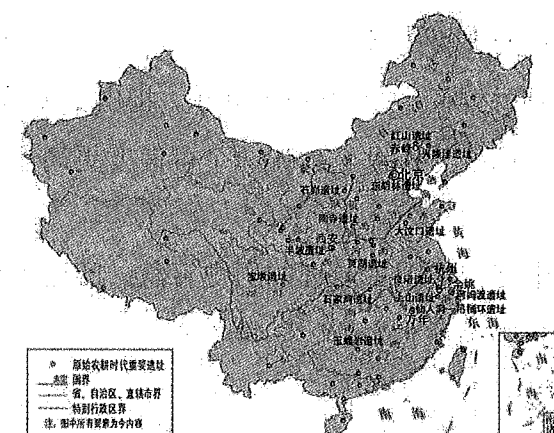
30. 《齐民要术》是我国现存最早的一部完整的农书，“齐民”是指使人民丰衣足食，“要术”是说重要的方法，合起来的意思就是指百姓从事生活资料生产的最重要的技术和知识。这反映出作者具有（ ）

- A. 以民生为本的务实精神
B. 敢于挑战权威的批判精神
C. 勇往直前的大无畏精神
D. 注重实验分析的科学精神


二、综合题(本大题共3小题,31小题题15分,32小题12分,33小题13分)

31、史料实证是指对获取的史料进行辨析，并运用可信的史料努力重现历史真实的态度与方法。阅读下列材料，回答问题。（15分）

材料一：中国原始农耕时代重要遗址分布图



材料二：

文物图片	 <p>玉琮</p>	 <p>彩绘龙纹陶盘</p>	 <p>何尊</p>	 <p>素纱单衣</p>
文物资料	<p>祭祀礼器，器型外方内圆，四面雕刻“神人兽面纹”，是已发现的良渚玉琮中最大最重的一件</p>	<p>出土于陶寺遗址高级大墓，彩绘蟠龙盘曲如蛇，口衔枝状物，象征着权力，被誉为“中华第一龙陶”</p>	<p>西周礼器，腹足有精美浮雕兽面纹，尊内底有铭文 122 字，其中“宅兹中国”为“中国”一词最早文字记载。</p>	<p>马王堆汉墓出土的丝织物，薄如蝉翼，重量不到 50 克，轻薄飘逸，款式简洁含蓄，堪称国宝级稀世珍品。</p>

材料三：

里耶秦简发现于湖南省龙山县里耶古城1号井，主要内容是秦洞庭郡迁陵县的档案。在里耶出土的公文简牍中频繁出现“洞庭郡”，下辖迁陵、酉阳、沅陵三县。	据汉朝《史记》、《汉书》等传世文献记载秦始皇统一全国后分天下为三十六郡，其中并无“洞庭郡”记录。
---	--

- (1) 根据材料一，概括中国原始农耕时代遗址的分布特点。(4分)
- (2) 请你仿照下面的示例，从材料二的文物中（除示例外）任选一件设计文物名片。(6分)

【示例】

名称: 玉琮

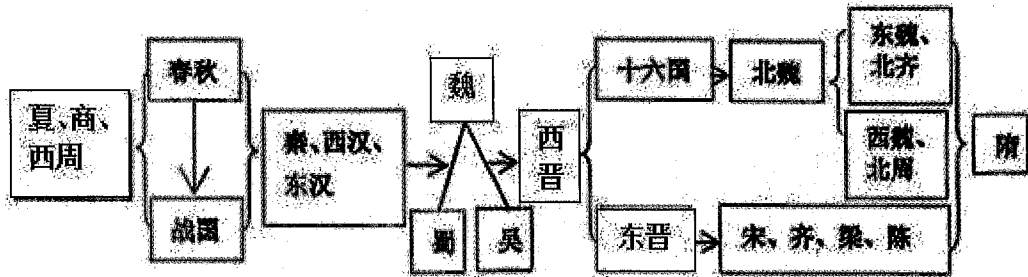
时间: 新石器时代

文物价值: 形制独特、神人兽面纹饰精美, 体现了新石器时代良渚先民的审美意识和图腾崇拜, 展示了良渚时期高超的玉器加工技术; 用于祭祀的礼器, 是权力和身份的象征, 是研究早期国家形成的重要史料。


(3) 根据材料三并结合所学知识，指出秦朝地方采用什么管理制度？ 根据所学，分析里耶秦简内容记载与传世文献哪一个可信度更高，为什么？（5分）

32、中国古代国家治理的历史智慧。阅读下列材料，回答问题。(12分)

材料一：中国古代政权更替（局部）







材料二：中国历代粮食平均亩产量示意图（市斤/市亩）（局部）



- (1) “改革是社会发展的动力”，请选取材料一中某一政权的某一史实对该观点进行说明。(5

- 分)
- (2) 观察材料二，选择其中一时期，分析该时期粮食亩产提升的原因。(3分)
- (3) 根据材料和所学，请你为现阶段我国的国家治理提出两条建设性意见。(4分)

33、文化遗产是历史的见证者，不仅生动讲述着过去，也深刻影响着当下和未来。阅读下列材料，回答问题。(13分)

 <p>①都江堰</p> <p>—</p>	 <p>②_</p> <p>它被称为“世界第八大奇迹”，是20世纪我国最重大的考古成就之一。它生动的展现了秦朝强大的军事力量以及威震四海、统一六国的宏伟气势。</p>
 <p>③_</p> <p>为汉代西陲两关之一（另一关为阳关），自古为中原进入西域之门户。作为丝绸之路上至今保存最好、类型最完整、规模足够大的关隘遗存，其见证了汉代大型交通保障体系中的交通管理制度、烽燧制度与长城防御制度，及其对丝绸之路长距离交通和交流的保障。</p>	 <p>④龙门石窟</p> <p>—</p>

- (1) 根据材料并结合所学知识，指出②和③两处文化遗产的名称。(4分)
- (2) 结合所学，选择①④其中一处建筑，为其撰写入选世界文化遗产的理由。(5分)
- (3) 综上所述，谈谈保护文化遗产的现实意义。(4分)